

HAYAT BİLGİSİ

Babasıyla taksiye binen Yusuf;

- 1- Çağırdıkları taksinin arka koltuğuna oturdu.
- 2- Emniyet kemerini taktı.
- 3- Eve gidinceye kadar şoförle konuştu.
- 4- Evine geldiğinde taksi tamamen durunca kaldırım tarafından indi.

1.

Yusuf , kaç numarayla başlayan cümlede yanlış bir davranış göstermiştir?

- A) 1 B) 3 C) 4

2.

Baba: Uzun boylu , kumral, beyaz tenli

Anne: Esmer tenli, yeşil gözlü , siyah saçlı

Yukarıda Leyla'nın anne ve babasının özellikleri verilmiştir.

Leyla fiziksel özellikleri bakımından annesine daha çok benzer.

Buna göre aşağıdakilerden hangisi Leyla'nın fiziksel özellikleri arasında yer aldığı söylenebilir?

- A) Kumral , beyaz tenli
B) Siyah saçlı , esmer tenli
C) Mavi gözlü , sarışın

3.

Sağlıklıyım çünkü

Noktalı yere aşağıdakilerden hangisi getirilemez?

- A) yemeklerden önce ve sonra ellerimi yıkarım.
B) dengeli ve düzenli beslenirim.
C) kişisel bakımımı yaparım.



4.

Yukarıdaki araçlardan kaç tanesini kişisel bakım yaparken kullanırız?

- A) 2 B) 3 C) 4

5.

itfaiye

155

AFAD

122

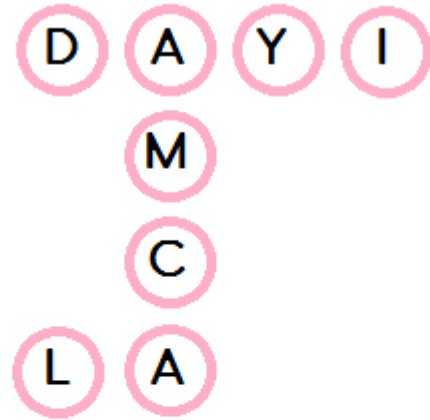
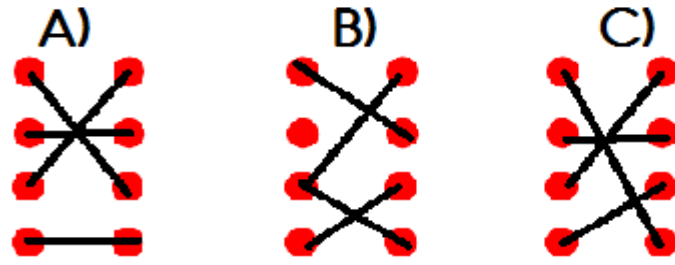
polis

112

ambulans

110

Yukarıda verilen telefon numaraları ile acil durum merkezleri eşleştirilirse görünüm nasıl olur?



6.

Yukarıdaki bulmacada hangi akrabamız yoktur?

- A) Babamızın erkek kardeşi
B) Annemizin kız kardeşi
C) Annemizin erkek kardeşi

Fırın ve ocağı büyüklerimiz olmadan kullanırsak☆...çıkabilir.

Açıktaki kablolara , priz ve fişlere ıslak elle dokunursak♥..... çarpabilir.

7.

Yukarıdaki ifadelerde boş olan yerlere hangi kelimeler yazılmalıdır?

- A) ☆ gaz ♥ elektirik
B) elektirik yangın
C) yangın elektirik

HAYAT BİLGİSİ

	D/Y
Teknolojik aletler hayatımızı kolaylaştırır.	
Teknolojik aletlerin zararı yoktur.	
Teknolojik aletleri özenli ve dikkatli kullanmalıyız.	

8. Yukarıdaki tablonun doğru - yanlış durumu hangi seçenekte verilmiştir?

- A)

D
Y
D

 B)

D
D
Y

 C)

Y
D
D

Sabah kahvaltısı	Öğle yemeği	Akşam yemeği
ekmek bisküvi gazoz	çorba kuru fasulye pirinç pilavı	nohut yemeği salata ayran

9. Mustafa'nın bir günde tükettiği besinler verilmiştir. Buna göre Mustafa hangi öğünlerde dengeli beslenmiştir?

- A) Yalnız sabah kahvaltısı
B) Öğle yemeği ve akşam yemeği
C) Sabah kahvaltısı ve öğle yemeği

Araç	Ulaşım Türü	Kullanan Kişi
Tren	Demir yolu	
Otobüs		Şoför
Feribot		

10. Yukarıdaki boşluklara sırasıyla ne yazılmalıdır?

-
- A) pilot kara yolu hava yolu kaptan
B) makinist kara yolu deniz yolu kaptan
C) makinist kara yolu deniz yolu pilot

sabun

uyku

spor

11. Yukarıdaki kelimeler aşağıdakilerden hangisini çağırır?

- A) temizlik
B) kişisel bakım
C) sağlıklı hayat

- D Y Trene binmek için istasyona gideriz.
 D Y Otobüse otoparkta bineriz.
 D Y Uçaya binmek için limana gideriz.

12. Yukarıda verilen cümlelerden doğru/ yanlış durumuna göre işaretlenirse tablonun görünümü nasıl olur?

- A) D Y D Y D Y
B) D Y D Y D Y
C) D Y D Y D Y



Babamla alışverişe çıkacağız. Benden içinde 3 tane ihtiyaç, 1 tane de istek bulunan alışveriş listesi yapmamı istedi.

13.

Yusuf'un doğru olarak yaptığı alışveriş listesi aşağıdakilerden hangisidir?

- A)

• Pamuk şeker
• Ekmek
• Su
• Yumurta

 B)

• Oyuncak
• Kek
• Eldiven
• Sakız

 C)

• Top
• Ekmek
• Çorap
• Çikolata

Ahmet, Büşra'ya "Kaynakları tasarruflu kullanıyorsun." demiştir.

14. Buna göre Büşra aşağıdakilerden hangisini yapmıştır?

- A) Ders çalışırken televizyonu açık bırakmıştır.
B) Dişini fırçalarken suyu hep açık bırakmıştır.
C) Okulda klima çalışırken camları kapamıştır.

15. Aşağıdakilerden hangisi hastanede gerçekleşmez?

- A) Muayene olmak
B) Röntgen çekirmek
C) İlaçları satın almak

MATEMATİK

$1 + 1 + 1 + 1$



5×3



$5 + 5 + 5$



3×5



4



4×1



$3 + 3 + 3 + 3 + 3$

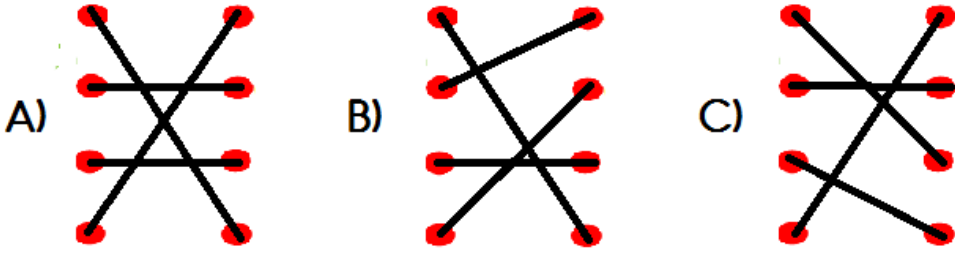


1×4



1

Yukarıdaki toplama işlemlerini ,çarpma işlemi şeklinde ifade edilişleriyle eşleştiriniz?



2.

Resimde gömlek ve eteğin fiyatı verilmiştir. Bu gömlek ve eteği alan Büşra'nın cebinde 8 lirası kalmıştır.

Buna göre Büşra'nın ilk başta kaç lirası vardı?

- A) 64 B) 72 C) 62

$$\begin{array}{r} 25 \\ +4 \\ \hline \end{array}$$



Yandaki işlem eldesiz toplama işlemi olduğuna göre yazılabilecek en büyük rakam

$$\begin{array}{r} 4 \\ -23 \\ \hline \end{array}$$




Yandaki işlem onluk bozma gerektiren bir işlem olduğuna göre yerine yazılabilecek en büyük sayı

3.

Yukarıdaki verilen bilgilere göre \times işleminin sonucu kaçtır?

- A) 6 B) 8 C) 27

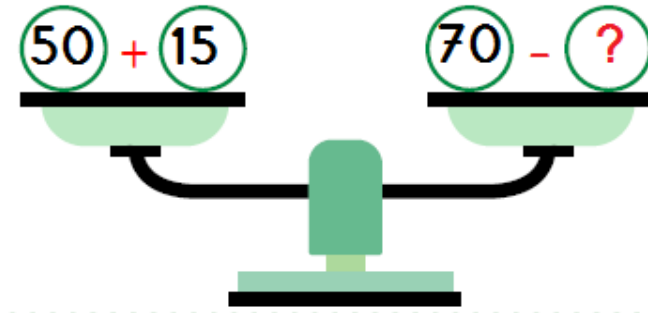
4.



Yukarıdaki çıkarma işlemiyle ilgili verilen bilgilerden hangisi yanlıştır?

- A) Tahmini sonucu 20'dir.
B) Onluk bozma yapılmıştır.
C) İşlemin sonucu 2 birlik 5 onluktur.

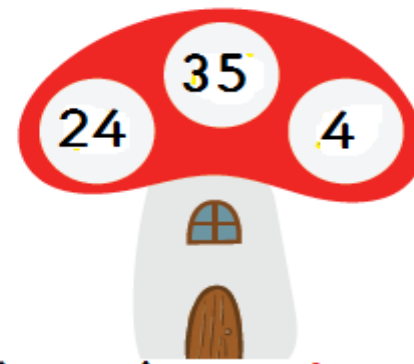
5.



Yukarıdaki terazinin dengede durabilmesi için ? olan yere hangi sayı yazılmalıdır?

- A) 5 B) 10 C) 15


6.



Çatıdaki sayıların tahmini toplamı kaçtır?

- A) 63 B) 60 C) 70

7.




Hüseyin ve İbrahim ikiz kardeşlerdir. İki kardeşin yaşları toplamı aşağıdakilerden hangisi olabilir?

- A) 9 B) 11 C) 12


MATEMATİK

8.



Kaplumbağa en yakın onlukları aynı olan yaprakları eşleştirip boşta kalan yaprağı yemek istiyor.

Buna göre kaplumbağa hangi yaprağı yer?



9.



Yukarıda verilen örüntüde boş olan yerlere sırasıyla hangi şekiller getirilmelidir?



10.



Yukarıdaki otobüste 10 koltuk vardır. Her koltukta 2 yolcu oturmaktadır. 1. durakta 6 yolcu inerse otobüste kaç yolcu kalır?

A) 4 B) 14 C) 20



11.

Sürahi, 5 bardak su almaktadır.
Kova, 4 sürahi su almaktadır.

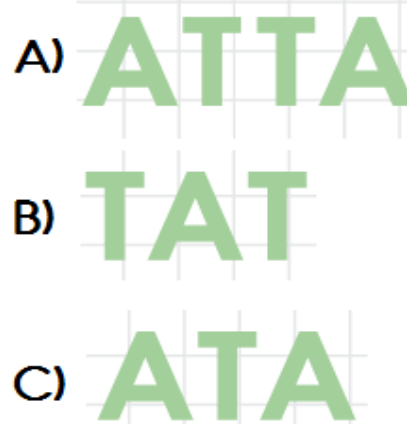
Yukarıda verilen bilgilere göre 1 kova kaç bardak su alır?

A) 20 B) 9 C) 25

12.



Yukarıdaki şeklin simetrisiyle birlikte oluşturduğu görüntü hangisidir?



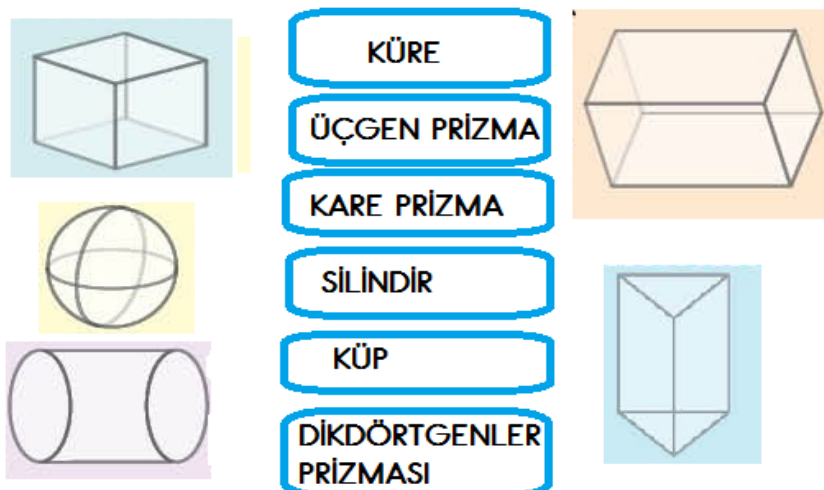
13.

x	3	6	9
2	6		18
5	15	30	

Yukarıdaki tabloya göre + işleminin sonucu kaçtır?

A) 37 B) 45 C) 57

14.



Yukarıdaki şekiller isimleriyle eşleştirildiğinde hangi isim açıkta kalır?

A) KARE PRİZMA
B) DİKDÖRTGENLER PRİZMASI
C) KÜRE

15.



Abaküste gösterilen sayıyla ilgili verilen bilgilerden hangisi yanlıştır?

A) En yakın onluğu 50'dir.
B) Basamak değerleri farkı 2'dir.
C) Onlar basamağına 1 boncuk eklersem yeni sayının en yakın onluğu 60 olur.

TÜRKÇE

Ahmet ve abisi Enes yıllardır futbol oynuyorlar.

1. Yukarıdaki cümleye göre aşağıdakilerden hangisi **kesinlikle** doğrudur?
A) Babaları çok iyi futbol oynar.
B) En az iki kardeşlerdir.
C) En çok sevdikleri spor futboldur.

Yaaa () Gelmiyecek misiniz ()
O zaman haftaya görüşürüz ()

2. Ayraçla () belirtilen yerlere sırasıyla hangi noktalama işaretleri getirilmelidir?
A) (!) (?) (.)
B) (!) (.) (.)
C) (,) (?) (.)

3. Aşağıdaki kelimelerden hangisi satır sonundan **yanlış** ayrılmıştır?

A)itfa-
iye B)Yusuf'
u C)televiz-
yon

Uzmanlar kan grubuna göre beslenmenin önemli olduğunu belirtiyorlar. Bu yüzden son günlerin gözde diyetlerinden biri de kan grubuna göre beslenmek.Örneğin kan grubu sıfır (0) olanlar bol bol inek ve kuzu eti, meyve ve sebze tüketmeli. Süt ürünlerinden ,patates ve mısırdan uzak durmalı.

4. Metne göre, sıfır (0) kan grubuna sahip biri diyet yaparken aşağıdakilerden hangisini **yememelidir**?
A) Portakal B) Yoğurt C) Ispanak

Kim?

Ne?

Nasıl?

5. Aşağıdaki cümlelerin hangisinde yukarıdaki soruların **tamamının** cevabı vardır?
A) Kırmızı araba almışlar.
B) Yusuf elmayı dilimleyerek yedi.
C) Kalemimi çantasına koydu.

Sözcük	Eş Anlam	Zıt Anlam
Süratli	Hızlı	Yavaş
	Yanıt	Soru

6.

- Yukarıdaki tabloda boş olan yere aşağıdaki kelimelerden hangisi yazılmalıdır?
A) cevap B) soru C) çözüm



7.

- Otomobil alfabetik sıralamada **en sonda** yer olan ili gösteren ok yönünde gidecektir. Otomobil hangi ok yönünü takip eder?
A) → B) ↓ C) ←

8. Aşağıdaki cümlelerin hangisinde **karşılaştırma** yapılmıştır?

A) Son sınavım diğerlerinden kolay geçti.
B) Zilin çalmasına 10 dakika vardı.
C) Sular kesildiği için banyo yapamadım.

I Kalem

E Silgi

N Defter

Y Kitap

9.

- Yukarıdaki sözcükleri **alfabetik sıraya** koyarsak hangi kelimeyi elde ederiz?
A) YENİ B) YİNE C) NİYE

TÜRKÇE

Bu sene 23 nisan Ulusal Egemenlik ve
1
Çocuk Bayramı, Yıldız caddesinde kutlanacak.
2 3
Bu nedenle pazar günü bazı yollar kapalı olacak.
4

- 10 Yukarıdaki numaralı kelimelerden hangilerinin yazımı doğrudur?
A) 2 ve 4 B) 1 ve 2 C) 3 ve 4

11 Bizim sokağa çok şirin bir oyun parkı yapıldı. Oyun parkının içinde rengarenk oyuncaklar var. Yerler, güvende olmamız için yumuşak malzemeden yapılmış. Oyun parkının başında ise bize çok nazik davranan bir bekçi var.

- Aşağıdakilerden hangisi bu parçadaki altı çizili kelimelerden birinin açıklaması değildir?
A) Sevimli , cana yakın.
B) Birinin kötülüğünü isteyen kimse.
C) Korku,endişe duymadan inanma duygusu.

12. Aşağıdaki cümlelerin hangisinde sebep - sonuç ilişkisi yoktur?
A) Ablasından su istedi çünkü çok susamıştı.
B) Ninesini özledi bu yüzden tatilde köye gitti.
C) Ramazan okula geç kaldı.

1. Okudukça heyecanı arttı.
2. Hikayenin devamını okumaya başladı.
3. Çantasından kitabını çıkardı.
4. Kitap bittiğinde yatma vakti gelmişti.
5. Sayfa yetmiş beşi açtı.

13. Yukarıdaki cümlelerle anlamlı bir metin oluşturmak istersem sıralama nasıl olmalıdır?
A) 3-5-2-1-4
B) 3-2-1-5-4
C) 2-1-5-4-3

Seni mi çağırmışlar?	
Bunları alabilir miyim?	
Okulda çok eylendik.	

14.

Yukarıdaki cümlelerde doğru yazılanlara 😊 , yanlış yazılanlara 😞 çizersek tablonun görünümü nasıl olur?

A)

😊
😊
😞

 B)

😞
😊
😊

 C)

😊
😞
😞

15.

Derelerde, göllerde
Göklerimde sen varsın.
Bulut bulut yükselir,
Yağmur olur yağarsın.

- Bu şiirin konusu aşağıdakilerden hangisidir?
A) Gökyüzü
B) Dünya
C) Su

16.

ileri - geri

- Yukarıdaki kelimeler arasındaki anlam ilişkisi aşağıdaki kelime çiftlerinin hangisinde vardır?
A) küçük - minik
B) ihtiyar - yaşlı
C) az - çok

17.

Arkadaşlarımla temizlik

- Verilen cümle aşağıdakilerden hangisiyle tamamlanırsa , işin sonra yapılacağı anlamı kazanır?
A) yaptım. B) yapacağım.
C) yapıyorum.